

SULIT
1249/1
Sejarah
Mei
2010
1 jam



1249/1

JABATAN PELAJARAN MELAKA

UJIAN PENGESANAN

SIJIL PELAJARAN MALAYSIA 2010

SEJARAH

Kertas 1

Satu jam

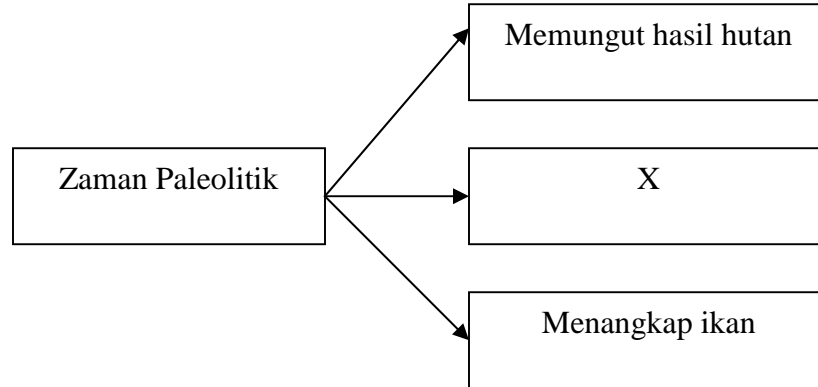
JANGAN BUKA KERTAS SOALAN INI SEHINGGA DIBERITAHU

1. *Kertas soalan ini mengandungi 40 soalan*
2. *Jawab semua soalan*

Kertas soalan ini mengandungi 17 halaman bercetak

[Lihat sebelah

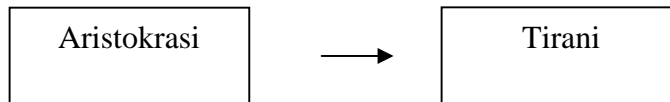
- 1 Rajah berikut menunjukkan kegiatan ekonomi masyarakat Zaman Paleolitik.



Apakah X ?

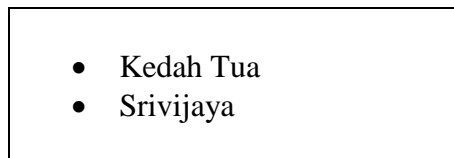
- A Mananam padi
 - B Memburu binatang
 - C Mengusahakan tembikar
 - D Menjalankan perdagangan
- 2 Dalam tamadun awal manusia raja mendakwa dirinya sebagai wakil Tuhan Mengapa?
- A Mendapat pengiktirafan
 - B Mengukuhkan kedudukan
 - C Melicinkan pentadbiran
 - D Menguasai ekonomi
- 3 Sekiranya anda seorang warganegara lelaki di Athens, anda layak menganggotai
- A Dewan Senat
 - B Dewan Rakyat
 - C Dewan Negara
 - D Dewan Perhimpunan

- 4 Rajah berikut menunjukkan perubahan yang berlaku dalam sistem pemerintahan di Yunani.



Mengapakah perubahan tersebut berlaku?

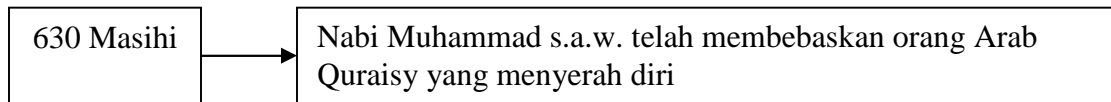
- A Rampasan kuasa rakyat
 - B Kekuatan pengaruh konsul
 - C Kebangkitan golongan patrician
 - D Penguasaan pemerintah tentera
- 5 Senarai di bawah merupakan kerajaan awal di Asia Tenggara.



Apakah persamaan peranan antara kedua-dua kerajaan di atas?

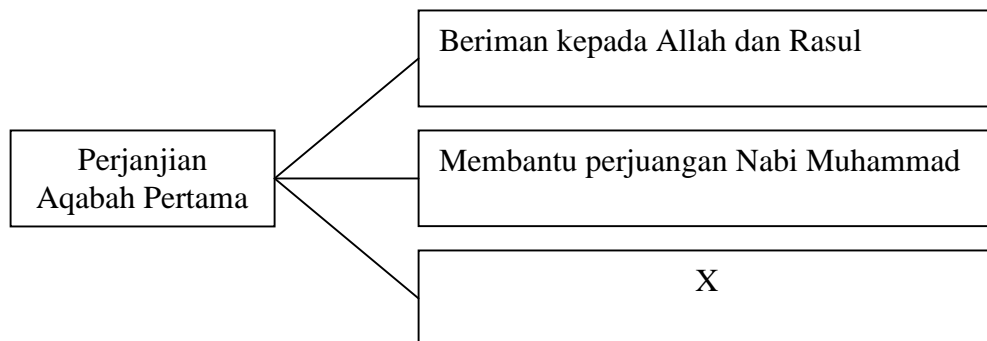
- A Pusat membina kapal
 - B Pengeluaran emas
 - C Pelabuhan entrepot
 - D Penghasilan rempah
- 6 Apakah kemahiran yang perlu dimiliki oleh masyarakat maritim untuk membentuk sebuah kerajaan yang maju?
- A Membuat perahu
 - B Mengusahakan tanaman
 - C Membina kubu pertahanan
 - D Menguruskan sistem pengairan

- 7 Maklumat di bawah menggambarkan peristiwa pembukaan Kota Makkah oleh Nabi Muhammad s.a.w.



Apakah nilai yang patut dicontohi oleh generasi hari ini berdasarkan peristiwa tersebut?

- A Tolak ansur
 - B Amanah
 - C Pemaaf
 - D Kasih sayang
- 8 Mengapakah Nabi Muhammad s.a.w. *bertahannuth* di Gua Hirak?
- A Menyembunyikan diri daripada orang Quraisy
 - B Menyelesaikan masalah golongan Yahudi
 - C Mengasingkan diri untuk beribadat
 - D Mendalami ilmu agama
- 9 Rajah berikut menerangkan isi kandungan Perjanjian Aqabah Pertama



Apakah X?

- A Menyediakan tempat tinggal
- B Meninggalkan amalan jahiliah
- C Menghentikan persengketaan
- D Menjanjikan keselamatan

10 Pada pendapat anda mengapakah negara kita mengadakan majlis sambutan “maal hijrah” pada setiap tahun?

- A Menghargai perjuangan terdahulu
- B Memupuk persaudaraan bangsa
- C Mengingati sejarah kerasulan
- D Menyemai jati diri

11 Maklumat di bawah berkaitan kaedah pemilihan Khalifah al-Rasyidin.

| |
|--|
| Cadangan satu nama daripada khalifah terdahulu |
|--|

Kaedah pemilihan di atas merujuk kepada khalifah

- A Abu Bakar al-Siddiq
- B Umar al-Khattab
- C Uthman bin Affan
- D Ali bin Abu Talib

12 Pernyataan di bawah merujuk kepada peristiwa yang berlaku dalam Perang Siffin.

| |
|--|
| Khalifah Ali sanggup menghentikan peperangan apabila pihak musuh mengangkat al-Quran |
|--|

Mengapakah beliau bertindak demikian?

- A Strategi peperangan jangka panjang
- B Menghormati keputusan musuh
- C Bilangan kematian meningkat
- D Mengutamakan keharmonian

- 13 Senarai di bawah memperlihatkan sifat-sifat mahmudah yang ditunjukkan oleh pedagang Islam semasa berurusniaga di Asia Tenggara.

- Amanah
- Lemah lembut
- Bersopan santun

Apakah jawatan yang dianugerahkan kepada pedagang yang memiliki sifat tersebut?

- A Bendahara
B Laksamana
C Syahbandar
D Mubaligh
- 14 Mengapakah undang-undang syariah tidak dapat dilaksanakan pada awal kedatangan Islam di Asia Tenggara?
- A Didiami masyarakat majmuk
B Pengaruh Hindu-Buddha
C Halangan penjajah Barat
D Terikat peraturan adat
- 15 Apakah kesan yang berlaku sekiranya seseorang rakyat menderhaka kepada sultan yang memerintah pada zaman masyarakat Melayu tradisional?
- A Ditimpa tulah
B Dibuang daerah
C Dihukum penjara
D Dilucut kerakyatan

16 Antara berikut manakah ciri sistem madrasah yang diamalkan dalam masyarakat Melayu tradisional?

- I Diawasi oleh mudir
- II Tiada batasan waktu
- III Melahirkan guru agama
- IV Berdasarkan sukatan pelajaran

- A I dan II
- B I dan IV
- C II dan III
- D III dan IV

17 Maklumat di bawah berkaitan penyelewengan golongan penguasa Gereja Katolik sejak abad ke 10.

- Penjualan sijil Indulgences
- Mengamalkan gaya hidup pemerintah

Apakah tindakan yang diambil oleh Martin Luther untuk mengatasi situasi tersebut?

- A Menguasai Gereja Katolik
- B Menyebar idea pembaharuan
- C Memperkenal Mazhab Protestan
- D Mempengaruhi pemikiran cendekiawan

18 Maklumat berikut merupakan gerakan pekerja yang berlaku di Britain pada abad ke 19

Pergerakan Luddite

Mengapakah peristiwa di atas berlaku?

- A Menuntut kenaikan gaji
- B Memelihara buruh wanita
- C Mewujudkan kesatuan sekerja
- D Mempertahan kaedah tradisional

19 Mengapakah Tanah Melayu menjadi tumpuan negara-negara Eropah pada abad ke 18?

- A Tempat pasaran
- B Tenaga buruh ramai
- C Penyebaran ideologi
- D Kekayaan bahan mentah

20 Jadual berikut menunjukkan jumlah eksport getah di Tanah Melayu mengalami kemerosotan antara tahun 1929 hingga tahun 1932

| Tahun | Nilai (pound sterling) |
|-------|------------------------|
| 1929 | 50 785 000 |
| 1931 | 13 806 000 |
| 1932 | 9 077 000 |

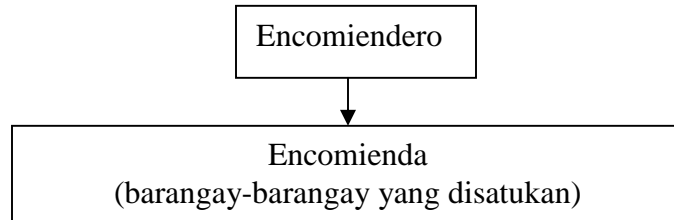
Mengapakah berlakunya keadaan tersebut?

- A Musim kemarau melampau
- B Kemelesetan ekonomi dunia
- C Persaingan getah tiruan
- D Serangan penyakit

21 Apakah tujuan awal imperialisme Barat di Asia Tenggara?

- A Menyebar tamadun barat
- B Mendapatkan tenaga buruh
- C Menguji teknologi perkapalan
- D Menguasai perdagangan rempah

- 22 Rajah berikut berkaitan dengan pentadbiran Sepanyol di Filipina



Mengapakah sistem Encomienda dibenci oleh penduduk Filipina?

- I Bayaran cukai tinggi
 - II Kerahan tenaga dilaksana
 - III Bahasa pribumi terpinggir
 - IV Kemerosotan ekonomi
- A I dan II
 - B I dan IV
 - C II dan III
 - D III dan IV
- 23 Rajah dibawah menunjukkan hasil karya penulisan agung di Asia Tenggara pada abad ke- 19

| Penulis | Karya |
|------------|-----------------|
| Jose Rizal | Noli Me Tangere |

Apakah implikasi daripada penulisan novel di atas?

- A Mengangkat martabat penulis
- B Menyuburkan idea demokrasi
- C Mencetus gerakan nasionalisme
- D Memperkaya hasil kesusasteraan

24 Mengapakah pemerintahan Raja Vajiravudh tidak disenangi oleh rakyat Thailand?

- A Boros berbelanja
- B Bersikap pilih kasih
- C Menindas rakyat miskin
- D Menyalahgunakan kuasa

25 Mengapakah timbulnya bantahan pemimpin tempatan terhadap James Brooke di Sarawak pada tahun 1842?

- A Pemerintahan lemah
- B Penguasaan daerah pedalaman
- C Mencampuri adat resam tempatan
- D Mengamalkan sikap pilih kasih

26 Maklumat berikut berkaitan dengan penentangan terhadap British.

Kemarahan penduduk Terengganu terhadap British menyebabkan berlakunya kebangkitan bersenjata pada bulan Mei 1928

Mengapakah tercetusnya gerakan tersebut?

- A Ekonomi sara diri dihapus
- B Kuasa pembesar terhakis
- C Pengenalan peraturan tanah
- D Pembinaan bangunan kerajaan

27 Tokoh berikut merupakan pendokong gerakan reformis Islam di Mesir

Syeikh Muhammad Abduh
(Pensyarah Universiti al Azhar)

Apakah isu yang diutarakan oleh beliau?

- A Sistem ekonomi Islam
- A Penekanan ilmu akhirat
- B Amalan ibadat yang betul
- D Penentangan terhadap penjajah

- 28 Antara kejayaan yang dicapai oleh Muhammad Eunus bin Abdullah dalam menjaga kebajikan orang Melayu di Singapura ialah
- A peningkatan taraf hidup
 - B peluasan peluang pekerjaan
 - C kawasan petempatan khas
 - D pembinaan sekolah aliran agama

- 29 Maklumat di bawah merupakan cara menyatukan negara bangsa di Eropah.

Otto Eduard Von Bismark menggunakan amalan realpolitik di Jerman

Apakah prinsip yang dibawa dalam amalan realpolitik di negara tersebut?

- I Kerjasama
 - II Penipuan
 - III Tipu helah
 - IV Rundingan
- A I dan II
 - B I dan IV
 - C II dan III
 - D III dan IV
- 30 Manakah antara negeri berikut menggunakan Hukum Kanun Melaka sebagai asas dalam penggubalan undang-undang negeri masing masing?
- A Kedah
 - B Perak
 - C Kelantan
 - D Terengganu

- 31 Maklumat di bawah berkaitan dengan sistem pentadbiran di Kelantan

Golongan pembesar bergelar Nik dan Wan dilantik sebagai pembesar negeri

Apakah kesan yang diharapkan daripada perantukan tersebut?

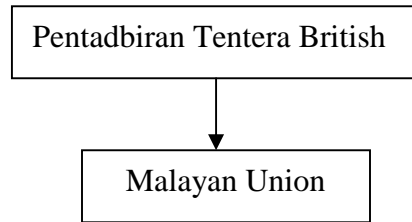
- A Ekonomi negeri bertambah baik
 - B Kewibawaan sultan diperkukuh
 - C Pembangunan berjalan lancar
 - D Keamanan dalam negeri
- 32 Maklumat berikut menerangkan perbilangan adat di Negeri Sembilan.

Alam beraja
Luak berpenghulu
Suku Berlembaga
Anak buah berbuapak

Kesimpulan yang sesuai daripada perbilangan di atas ialah

- A raja berkuasa mutlak
- B rakyat berkuasa melantik raja
- C amalan sistem raja berpelembagaan
- D pemerintahan bercorak demokrasi

- 33 Rajah berikut menunjukkan perubahan sistem pentadbiran British di Tanah Melayu



- Apakah alasan British memperkenalkan Malayan Union?
- A Memperkukuh kuasa politik bumiputera
 - B Menjimatkan kos pentadbiran
 - C Menyatukan pelbagai kaum
 - D Memperkasa ketenteraan barat
- 34 Mengapakah golongan Melayu radikal menyokong konsep Malayan Union?
- A Sistem feudal kekal
 - B Dijanjikan kemerdekaan
 - C Negara bangsa moden dibentuk
 - D Ekonomi penduduk dipertingkat
- 35 Maklumat di bawah berkaitan dengan Persekutuan Tanah Melayu 1948.

Sikap politik orang Melayu yang sederhana mendorong British membentuk Persekutuan Tanah Melayu

Bagaimanakah kesederhanaan yang dimaksudkan dalam maklumat di atas?

- I Mengadakan kongres
- II Menulis dalam akhbar
- III Meminta sokongan luar
- IV Mengadakan pungutan suara

- A I dan II
B I dan IV
C II dan III
D III dan IV
- 36 Bagaimanakah kaum ibu dalam Persatuan Kebangsaan Melayu Sarawak (PKMS) membantah penyerahan Sarawak kepada British?
- A Melalui penulisan
B Menganjurkan mogok
C Menubuhkan persatuan
D Menyertai demonstrasi
- 37 Mengapakah Dato' Onn dikritik hebat oleh masyarakat Melayu pada tahun 1951?
- A Membawa masuk imigran Cina
B Mengasaskan parti Kemerdekaan Malaya
C Membuka keahlian UMNO kepada bukan Melayu
D Mengundang bukan Melayu menyertai Konvensyen Kebangsaan
- 38 Jadual di bawah menunjukkan usaha yang telah dilakukan oleh pemimpin tempatan di Tanah Melayu

| Tahun | Perkara |
|-------|-----------------------------------|
| 1949 | Jawatankuasa Hubungan Antara Kaum |
| 1951 | Sistem Ahli |

Apakah matlamat mereka bertindak demikian?

- A Menjamin kecekapan pentadbiran
B Meningkatkan tahap keselamatan
C Memperbaiki taraf hidup
D Mewujudkan perpaduan

- 39 Mengapakah Dato' Onn Ja'afar menubuhkan Parti Kemerdekaan Malaya (IMP) pada tahun 1951?
- A Memenuhi permintaan rakyat
 - B Mewujudkan kestabilan politik
 - C Merupakan strategi menghadapi pilihanraya
 - D Membentuk perpaduan kaum dalam satu parti
- 40 Perjanjian Persekutuan Tanah Melayu telah ditandatangani antara Raja-Raja Melayu dengan pihak British pada 15 Ogos 1957
- Apakah kepentingan peristiwa tersebut?
- A Perluasan pengaruh komunis disekat
 - B Kerjasama pelbagai kaum membentuk kerajaan
 - C Kuasa pembesar tempatan dipulihkan semula
 - D British bersetuju memberi kemerdekaan

KERTAS SOALAN TAMAT

Sejarah
Mei
2010
2 1/2 jam

JABATAN PELAJARAN MELAKA

UJIAN PENGESANAN PERTENGAHAN TAHUN

SIJIL PELAJARAN MALAYSIA 2010

SEJARAH

Kertas 2

2 1/2 jam

JANGAN BUKA KERTAS SOALAN INI SEHINGGA DIBERITAHU

1. Kertas soalan ini mengandungi **dua bahagian : Bahagian A dan Bahagian B**
2. Jawab **semua** soalan daripada **Bahagian A** dan **tiga** soalan daripada **Bahagian B**.
3. Jawapan **Bahagian A** hendaklah ditulis di dalam ruang yang disediakan dalam kertas soalan.
4. Jawapan **Bahagian B** hendaklah ditulis pada kertas jawapan berasingan yang disediakan.
5. Kertas soalan ini hendaklah diikat dan dihantar bersama dengan kertas jawapan **Bahagian B**.

| Untuk Kegunaan Pemeriksa | | |
|--------------------------|--------|--------|
| Bahagian | Soalan | Markah |
| A | 1 | |
| | 2 | |
| | 3 | |
| | 4 | |
| B | 5 | |
| | 6 | |
| | 7 | |
| | 8 | |
| | 9 | |
| Jumlah | | |

SULIT

Bahagian A
[40 markah]
Jawab **semua** soalan

- 1 Jadual berikut menerangkan tentang Pembukaan Semula Kota Makkah.

| Tahun | Tempat | Peristiwa |
|----------------|-------------|---------------------------------|
| 630 M. 8 H. | Kota Makkah | Pembukaan Semula Kota Makkah |

- (a) Berikan **dua** sebab Nabi Muhammad s.a.w. bertindak membuka semula Kota Makkah.

(i)

(ii)

[2 markah]

- (b) Senaraikan **dua** nama pemimpin tentera Islam yang mengetuai serangan tersebut.

(i)

(ii)

[2 markah]

- (c) Mengapakah Kota Makkah mudah dibuka semula oleh tentera Islam?

(i)

(ii)

[2 markah]

- (d) Apakah kepentingan pembukaan semula Kota Makkah dalam sejarah Islam?

(i)

(ii)

[2 markah]

- (e) Berdasarkan pemerhatian anda, apakah iktibar yang boleh diperoleh daripada pembukaan semula Kota Makkah untuk kehidupan rakyat Malaysia yang berbilang kaum?

(i)

(ii)

[2 markah]

2. Pernyataan di bawah menerangkan tentang pengenalan undang-undang tanah oleh British di Tanah Melayu, Sabah dan Sarawak.

Penjajah British telah memperkenalkan undang-undang tanah berkonsepkan sistem Barat bagi memudahkan kerja pentadbiran tanah dan pembangunan ekonomi.

- (a) Nyatakan **dua** ciri undang-undang tanah yang diperkenalkan oleh pihak British?

(i)

(ii)

[2 markah]

- (b) Apakah kesan daripada pengenalan undang-undang tersebut kepada masyarakat Melayu?

(i)

(ii)

[2 markah]

- (c) Mengapakah British mewujudkan Akta Tanah Simpanan Melayu?

(i)

(ii)

[2 markah]

- (d) Senaraikan **dua** jenis undang-undang tanah yang diwujudkan di Sabah dan Sarawak yang intipati tujuan penubuhannya sama seperti Akta Tanah Simpanan Melayu.

(i)

(ii)

[2 markah]

- (e) Berdasarkan pengkajian anda terhadap undang-undang tanah, wajarkah Akta Tanah Simpanan Melayu dikekalkan pada hari ini.
Beri alasan anda.

(i)

(ii)

[2 markah]

3 Pernyataan di bawah berkaitan nasionalisme di Asia Tenggara.

Gerakan nasionalisme paling awal berlaku di negara Filipina.

(a) Senaraikan **dua** tokoh nasionalis di negara tersebut.

(i)

(ii)
[2 markah]

(b) Berikan **dua** tuntutan gerakan nasionalisme pada tahap pertama di Filipina.

(i)

(ii)
[2 markah]

(c) Nyatakan **dua** tindakan yang telah diambil oleh penjajah Sepanyol bagi menangani gerakan nasionalisme berkenaan.

(i)

(ii)
[2 markah]

(d) Mengapakah gerakan nasionalisme bercorak radikal berjaya ditangani oleh penjajah?

(i)

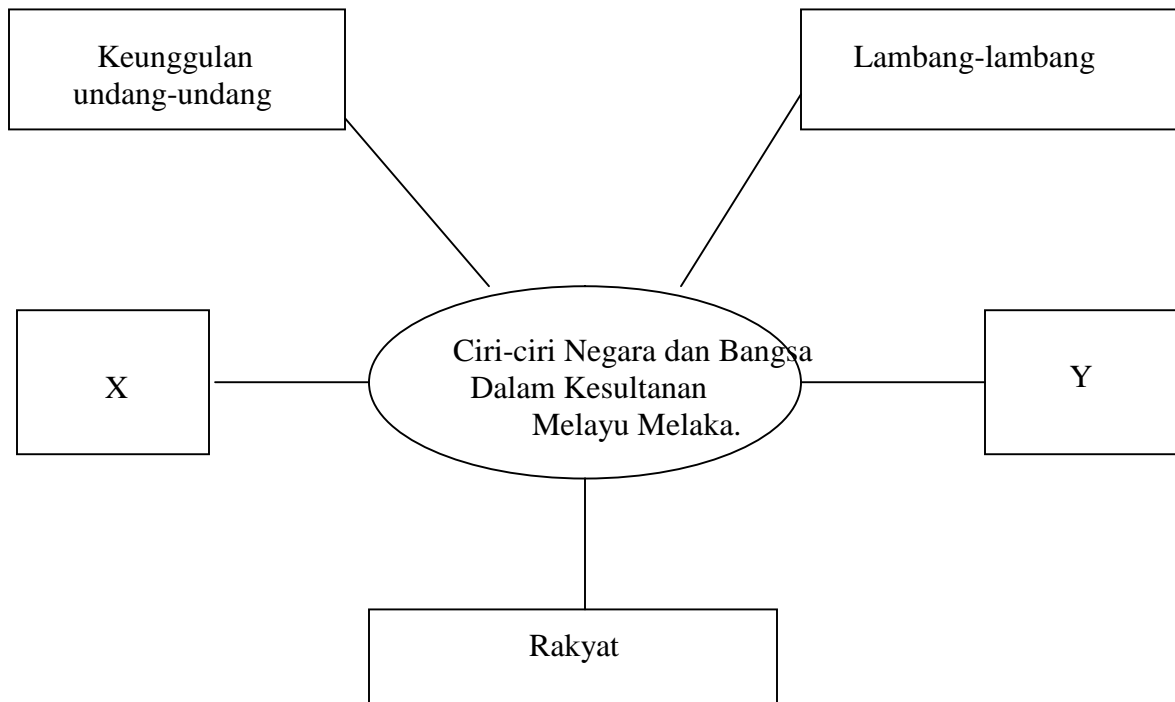
(ii)
[2 markah]

(e) Andaikan anda menjadi pemimpin nasionalis di Filipina pada waktu itu.
Cadangkan **dua** tindakan yang akan anda lakukan bagi menjayakan matlamat perjuangan anda.

(i)

(ii)
[2 markah]

- 4 Rajah berikut berkaitan dengan ciri-ciri negara bangsa dalam Kesultanan Melayu Melaka.



(a) Apakah **X** dan **Y**?

(i) **X** :

(ii) **Y** :

[2 markah]

(b) Senaraikan **dua** undang-undang bertulis yang terdapat dalam Kesultanan Melayu Melaka.

(i)

(ii)

[2 markah]

(c) Nyatakan lambang-lambang negara yang terdapat dalam kesultanan berkenaan.

(i)

(ii)

[2 markah]

(d) Apakah tanggungjawab rakyat terhadap raja dalam kesultanan tersebut?

(i)

(ii)

[2 markah]

(e) Negara bangsa Malaysia sangat istimewa kerana terdiri daripada pelbagai etnik, budaya dan agama.

Cadangkan **dua** kegiatan yang boleh dilakukan bagi memperkukuhkan lagi kewujudan negara bangsa Malaysia.

(i)

(ii)

[2 markah]

Bahagian B

[60 markah]

Jawab **tiga** soalan sahaja

- 5 Pada sekitar tahun 2205 S.M. tamadun Hwang Ho telah berkembang menjadi pusat tamadun awal dunia.
- (a) Terangkan ciri-ciri tamadun Hwang Ho.
[9 markah]
- (b) Jelaskan sumbangan tamadun tersebut kepada peradaban manusia.
[6 markah]
- (c) Berdasarkan pengkajian anda terhadap tamadun tersebut, apakah iktibar yang boleh diperoleh untuk memajukan bidang pertanian di Malaysia?
[5 markah]
- 6 Nabi Muhammad s.a.w. mempunyai keperibadian unggul yang relevan dicontohi sepanjang zaman.
- (a) Ceritakan riwayat kehidupan Nabi Muhammad s.a.w. sehingga baginda dilantik sebagai rasul.
[8 markah]
- (b) Terangkan sifat keperibadian Nabi Muhammad s.a.w. yang patut dicontohi oleh umat manusia.
[7 markah]
- (c) Bagaimanakah pengamalan sifat-sifat keperibadian Nabi Muhammad s.a.w. boleh membentuk sebuah negara Malaysia yang gemilang dan terbilang?
[5 markah]
- 7 Akhbar Melayu memainkan peranan penting dalam melahirkan semangat kebangsaan sebelum Perang Dunia Pertama.
- (a) Nyatakan nama akhbar-akhbar Melayu tersebut.
[5 markah]

- (b) Jelaskan isu-isu yang dibangkitkan oleh akhbar-akhbar berkenaan.
[10 markah]
- (c) Pada pendapat anda, mengapakah akhbar menjadi medium penting yang digunakan oleh para nasionalis untuk menaikkan semangat nasionalisme orang Melayu?
[5 markah]
- 8 (a) Terangkan sebab-sebab Malayan Union diperkenalkan oleh penjajah British.
[7 markah]
- (b) Nyatakan faktor-faktor yang mendorong orang Melayu menentang Malayan Union.
[7 markah]
- (c) Andaikan anda sebagai salah seorang penduduk Tanah Melayu ketika itu. Cadangkan tindakan yang akan anda ambil bagi menentang penubuhan Malayan Union.
[6 markah]
- 9 Perjanjian Persekutuan Tanah Melayu 1957 penting sebagai simbol persetujuan British untuk memberikan kemerdekaan kepada Persekutuan Tanah Melayu.
- (a) Nyatakan isi Perjanjian Persekutuan Tanah Melayu 1957.
[8 markah]
- (b) Berdasarkan pengetahuan sejarah anda, jelaskan kepentingan perjanjian tersebut ke arah pembentukan sebuah negara berdaulat dan maju.
[6 markah]
- (c) Apakah yang akan berlaku sekiranya isi Perjanjian Persekutuan Tanah Melayu 1957 tidak dipatuhi selepas Tanah Melayu mencapai kemerdekaan.
[6 markah]

KERTAS SOALAN TAMAT

**1249/1
Sejarah
Mei
2010
1 jam**



JABATAN PELAJARAN MELAKA

**UJIAN PENGESANAN
SIJIL PELAJARAN MALAYSIA 2010**

SEJARAH

SET 2

[JAWAPAN]

Kertas 1

(Lihat sebelah

2010 Hak Cipta Jabatan Pelajaran Melaka

| No Soalan | Jawapan | Helaian Buku Teks | Tingkatan |
|-----------|---------|-------------------|-----------|
| 1 | B | ms 2 | 4 |
| 2 | A | ms 7 | 4 |
| 3 | D | ms 43 | 4 |
| 4 | A | ms 43 | 4 |
| 5 | C | ms 79 | 4 |
| 6 | A | ms 80 | 4 |
| 7 | C | ms 106 | 4 |
| 8 | C | ms 107 | 4 |
| 9 | B | ms 118 | 4 |
| 10 | A | ms 123 | 4 |
| 11 | B | ms 143 | 4 |
| 12 | D | ms 148 | 4 |
| 13 | C | ms 180 | 4 |
| 14 | D | ms 186 | 4 |
| 15 | A | ms 198 | 4 |
| 16 | B | ms 203 | 4 |
| 17 | C | ms 221 | 4 |
| 18 | D | ms 236 | 4 |
| 19 | D | ms 244 | 4 |
| 20 | B | ms 250 | 4 |
| 21 | D | ms 3 | 5 |
| 22 | A | ms 9 | 5 |
| 23 | C | ms 16 | 5 |
| 24 | A | ms 22 | 5 |
| 25 | B | ms 32 | 5 |
| 26 | C | ms 42-43 | 5 |
| 27 | A | ms 48 | 5 |
| 28 | C | ms 54 | 5 |
| 29 | C | ms 69 | 5 |
| 30 | B | ms 80 | 5 |
| 31 | B | ms 83 | 5 |
| 32 | D | ms 88 | 5 |
| 33 | B | ms 95 | 5 |
| 34 | B | ms 100 | 5 |
| 35 | A | ms 104 | 5 |
| 36 | D | ms 111 | 5 |
| 37 | C | ms 120 | 5 |
| 38 | D | ms 118 | 5 |
| 39 | D | ms 121 | 5 |
| 40 | D | ms 125 | 5 |

