



# المجموعة الأولى



أكمل مايتى :-



(١) ٢ أكبر من .....

(٢) ١ أصغر من ..... و ..... و .....

(٣) ٦ أكبر من ..... و ..... و .....

(٤) عدد حروف المنيا = ..... حروف

(٥) عدد حروف أسيوط = ..... حروف

(٦) العدد ..... أصغر من ٩ وأكبر من ٧

(٧) العدد ..... أكبر من ٣ وأصغر من ٥

(٨) ..... > ٧

(٩) ٦ > .....

(١٠) ..... < ٩

(١١) ٥ < .....

(١٢) ..... + ١ = ٩





$$\dots\dots\dots + ٢ = ٧ \quad (١٣)$$



$$٦ + ٣ = \dots\dots\dots (١٤)$$



$$٧ < \dots\dots\dots + ٤ \quad (١٥)$$

$$\dots\dots\dots + ٥ < ٢ + ٥ \quad (١٦)$$



$$٥ + ٢ < ١ + \dots\dots\dots (١٧)$$

$$٤ + ١ > ١ + ٣ \quad (١٨)$$



$$٣ + \dots\dots\dots = ١ + ٨ \quad (١٩)$$



$$٢ = \dots\dots\dots + \dots\dots\dots (٢٠)$$

$$٣ < \dots\dots\dots + \dots\dots\dots (٢١)$$



$$٨ = \dots\dots\dots + \dots\dots\dots (٢٢)$$

$$٦ > \dots\dots\dots + ٣ \quad (٢٣)$$



$$\dots\dots\dots + ٣ = ٧ + ٢ \quad (٢٤)$$



$$٣ = \dots\dots\dots - ٧ \quad (٢٥)$$

$$٣ < \dots\dots\dots - ٦ \quad (٢٦)$$



$$١ = \dots\dots\dots - ٨ \quad (٢٧)$$

$$٥ = ١ - \dots\dots\dots (٢٨)$$



مذكرة تدريبات الصف الأول ترم أول ٢٠١٦  
سلسلة الليالي العشر



$$٥ > ..... - ٧ \quad (٢٩)$$



$$١ - ٩ < ..... + ٥ \quad (٣٠)$$



$$..... - ٩ > ٤ = ٢ \quad (٣١)$$



$$٣ - ٦ < ٣ + ..... \quad (٣٢)$$



$$..... = ٤ + ٥ \quad (٣٣)$$



$$..... = ٣ + ٦ \quad (٣٤)$$



$$٧ = ٤ + ..... \quad (٣٥)$$



$$٢ + ..... = ٥ \quad (٣٦)$$



$$٣ = ٣ - ..... \quad (٣٧)$$



$$٣ = ..... - ٥ \quad (٣٨)$$

$$..... + ٣ = ٢ + ٥ \quad (٣٩)$$



$$٢ - ٨ = ..... + ٥ \quad (٤٠)$$



$$٤ > ٤ - ..... \quad (٤١)$$

$$..... + ٦ = ٢ - ٩ \quad (٤٢)$$



$$٣ + ..... = ٤ + ٢ \quad (٤٣)$$

$$٤ + ..... = ..... + ٤ = ٥ \quad (٤٤)$$





$$٥ + ..... > ٧ \quad (٤٥)$$



$$..... + ٦ < ٩ \quad (٤٦)$$



$$..... + ٤ < ٩ \quad (٤٧)$$

$$٢ + ..... > ٦ \quad (٤٨)$$



$$٤ > ٣ - ..... \quad (٤٩)$$

$$> ..... - ٩ \quad (٥٠)$$





# المجموعة الثانية



ضع علامة ( < ) أو ( > ) أو ( = )



٧  ٥ (١)

١  ٣ (٢)

٨  ٩ (٣)

٦  ٧ (٤)

٥  ٢ + ٦ (٥)

٩  ٥ + ٢ (٦)

٨  ٤ + ٣ (٧)

٤ + ٢  ٣ + ٢ (٨)

٦ + ٥  ٧ + ٥ (٩)

٣ + ٣  ٢ + ٤ (١٠)

٣  ٣ - ٦ (١١)



مذكرة تدريبات الصف الأول ترم أول ٢٠١٦  
سلسلة الليالي العشر



٤	<input type="text"/>	٥ - ٨ (١٢)
٥	<input type="text"/>	٣ - ٩ (١٣)
٣ - ٩	<input type="text"/>	٢ + ٧ (١٤)
٢ - ٥	<input type="text"/>	١ + ٦ (١٥)
١ + ٦	<input type="text"/>	٢ - ٨ (١٦)
٧	<input type="text"/>	٤ + ٣ (١٧)
٤	<input type="text"/>	٤ - ٩ (١٨)
٩	<input type="text"/>	٥ + ٣ (١٩)
٢	<input type="text"/>	٣ - ٥ (٢٠)
٦	<input type="text"/>	٣ - ٨ (٢١)
٤	<input type="text"/>	٢ + ٣ (٢٢)
٨	<input type="text"/>	٢ + ٦ (٢٣)
٩	<input type="text"/>	١ - ٩ (٢٤)
٧ + ١	<input type="text"/>	١ + ٧ (٢٥)







# المجموعة الثالثة



أكمل بنفس النمط :-



(١) ..... ، ٢ ، ..... ، ..... ، ٥ ، .....

(٢) ..... ، ..... ، ٧ ، ٨ ، .....

(٣) ..... ، ..... ، ٣ ، ٤ ، ٥

(٤) ..... ، ..... ، ٥ ، ٣ ، ١

(٥) ..... ، ..... ، ٧ ، ٦ ، ٥

(٦) ..... ، ..... ، ٦ ، ٨

(٧) ..... ، ..... ، ٥ ، ٤ ، ..... ، ..... ، ١

(٨) ..... ، ..... ، ٤ ، ٢

(٩) ..... ، ..... ، ..... ، ٧ ، ٩

(١٠) ..... ▲ ▲ ● ▲ ● ●



مذكرة تدريبات الصف الأول ترم أول ٢٠١٦  
سلسلة الليالي العشر



(١١) ..... ، ..... ، ٥ ، ٦ ، ..... ، ..... ، ٩




(١٢) .....        



(١٣) .....         

(١٤) ..... ، ٦ ، ٣

(١٥) ..... ، ٥ ، ٨







# المجموعة الرابعة



رتب الأعداد الآتية ترتيبا تصاعديا : -



٧ ، ١ ، ٨ ، ٥  
..... ، ..... ، ..... ، .....

(١)

٣ ، ٤ ، ٧ ، ٢  
..... ، ..... ، ..... ، .....

(٢)

٥ ، ٤ ، ٧ ، ٦  
..... ، ..... ، ..... ، .....

(٣)

٤ ، ٥ ، ٨ ، ٢  
..... ، ..... ، ..... ، .....

(٤)

٨ ، ٩ ، ٤ ، ١ ، ٣  
..... ، ..... ، ..... ، ..... ، .....

(٥)

٦ ، ٧ ، ٣ ، ٨ ، ٥  
..... ، ..... ، ..... ، ..... ، .....

(٦)

٤ ، ٣ ، ٦ ، ٧ ، ٨  
..... ، ..... ، ..... ، ..... ، .....

(٧)

٦ ، ٧ ، ٥ ، ٣ ، ٩  
..... ، ..... ، ..... ، ..... ، .....

(٨)





## رتب الأعداد الآتية ترتيبا تنازليا :



٥ ، ٨ ، ٣ ، ٧

..... ، ..... ، ..... ، .....

(١)

٤ ، ٩ ، ٥ ، ٦

..... ، ..... ، ..... ، .....

(٢)

٦ ، ٧ ، ٣ ، ١

..... ، ..... ، ..... ، .....

(٣)

٧ ، ٥ ، ٣ ، ٨ ، ٩

..... ، ..... ، ..... ، ..... ، .....

(٤)

٧ ، ٦ ، ٩ ، ٥ ، ٤

..... ، ..... ، ..... ، ..... ، .....

(٥)

٩ ، ٥ ، ٣ ، ٨ ، ٧ ، ٦

..... ، ..... ، ..... ، ..... ، ..... ، .....

(٦)

٨ ، ٦ ، ٧ ، ٥ ، ٩ ، ٤

..... ، ..... ، ..... ، ..... ، ..... ، .....

(٧)

٥ ، ٩ ، ١ ، ٢ ، ٦

..... ، ..... ، ..... ، ..... ، .....

(٨)





# المجموعة الخامسة



أكمل : -

سالى



صفاء



شيماء



هند



مروة



(١) من التى تقف خلف هند ؟ .....

(٢) من التى تقف أمام صفاء ؟ .....

(٣) من التى تقف بين مروة وشيماء ؟ .....

(٤) من التى تقف أمام شيماء ؟ .....

محسن



عمر



محمد



علاء



(١) اسم الولد الذى يقف على يمين عمر ؟ .....

(٢) اسم الولد الذى يقف على يسار عمر ؟ .....

(٣) ما اسم الولد الذى يقف بين علاء وعمر ؟ .....





## المجموعة السادسة



### مسائل لفظية :-



(١) اشترى محمد ٥ شمعات حمراء ، ٤ شمعات صفراء كم شمعة اشترىها محمد ؟

عدد الشمع = ..... + ..... = ..... شمعات

(٢) اشترت حنين كراسة ثمنها ٥ جنيهاً وقلم ثمنه ٣ جنيهاً كم دفعت حنين للبائع ؟

مادفعته حنين = ..... + ..... = ..... جنيهاً

(٣) اشترى علاء قصة ثمنها ٤ جنيهاً وكتاباً ثمنه ٣ جنيهاً ما جملة مادفعه علاء ؟

جملة ما دفعه علاء = ..... + ..... = ..... جنيهاً

(٤) يتكون فريق الكرة في فصلى من ٦ لاعبين تغيب عن التدريب واحد منهم كم لاعباً حضر التدريب ؟

عدد الحاضرين = ..... - ..... = ..... لاعباً

(٥) كم أصبعاً في اليد الواحدة ؟  
عدد الأصابع = ..... أصابع

(٦) كم يوماً من أيام الأسبوع تذهب إلى المدرسة ؟  
عدد الأيام = ..... يوماً





(٧) اشترت ياسمين مسطرة ثمنها جنيهان وأيس كريم ثمنه ٣ جنيهاً فكم دفعت ياسمين؟



مادفعته ياسمين = ..... + ..... = ..... جنيهاً



(٨) سيارة بها ٦ أطفال نزل منهم ٣ أطفال فكم طفلاً تبقى بالسيارة؟



عدد الأطفال بالسيارة = ..... - ..... = ..... أطفال



(٩) زهرية بها ٩ وردات صفراء وحمراء فإذا كان عدد الوردات الحمراء ٤ وردات فكم وردة صفراء في الزهرية؟



عدد الوردات الصفراء = ..... - ..... = ..... وردات



(١٠) مع أيهاب ٩ كراسات أعطى أخاه شريف ٤ كراسات كم كراسة تبقت مع أيهاب



ماتبقى مع أيهاب = ..... - ..... = ..... كراسات







# المجموعة السابعة



أكمل مايتى :-



..... = ٥ - ٩ (١)

٩ = ..... + ٣ (٢)

..... = ٤ - ٧ (٣)

٨ = ..... + ٥ (٤)

٧ = ..... + ٦ (٥)

١ = ٧ - ..... (٦)

٩ = ..... + ٣ (٧)

٩ = ٧ + ..... (٨)

٨ = ..... - ٩ (٩)

٤ = ..... + ..... (١٠)

٧ = ..... + ..... (١١)

٩ = ..... + ..... (١٢)



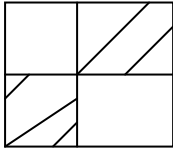




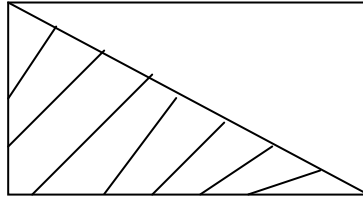
# المجموعة الثامنة



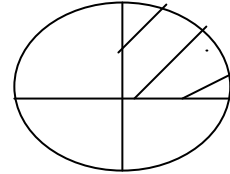
اكتب الكسر الذي يمثله الجزء الملون



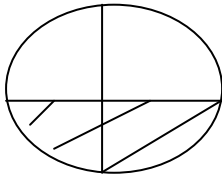
.....



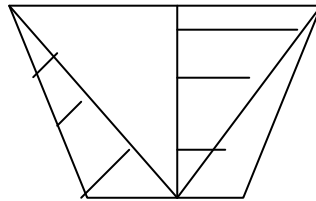
.....



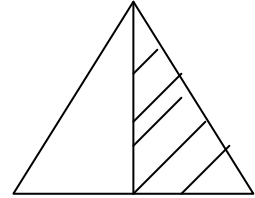
.....



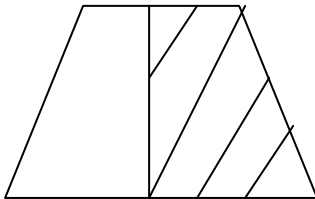
.....



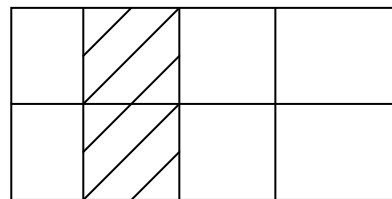
.....



.....



.....

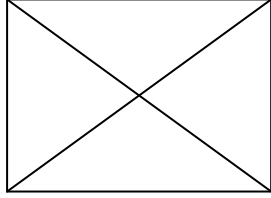


.....

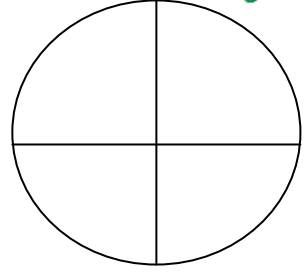




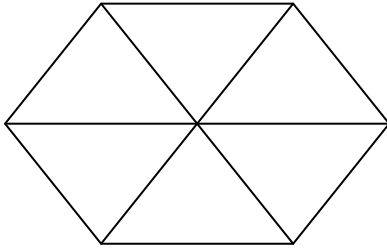
لون بحسب الكسر



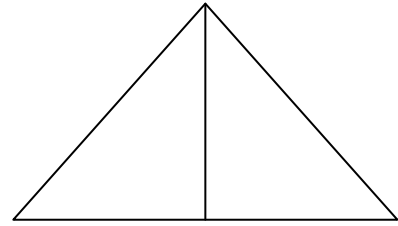
$\frac{1}{4}$



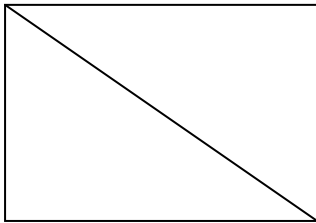
$\frac{1}{4}$



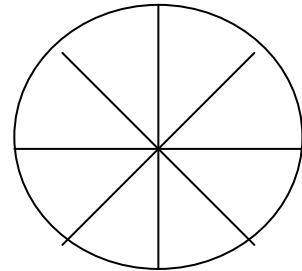
$\frac{1}{6}$



$\frac{1}{2}$



$\frac{1}{2}$



$\frac{1}{8}$

( مع تمنياتي بالنجاح والتفوق )

سلسلة الليالي العشر  
في مادة الرياضيات

